

Przepisz do zeszytu poniższe ćwiczenia (lub wydrukuj) i korzystając z informacji z podręcznika uzupełnij informacje.

Po zakończonej pracy zrób zdjęcie lub zeskanuj i wyślij do mnie na adres polakjustyna@op.pl

Na rozwiązania czekam do 25 marca. W razie pytań proszę o kontakt na e-mail lub Messenger. Pozdrawiam Justyna Ćwiertnia

Karta pracy *Elementy rysunku technicznego – podręcznik str. 53-56*

1. Nazwij podane przykłady linii używanych w rysunku technicznym. Określ zastosowanie każdej z nich.

a) ————— Linia

Zastosowanie:

b) ————— Linia

Zastosowanie:

c) - - - - - Linia

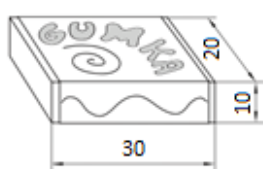
Zastosowanie:

d) - - - - - Linia

Zastosowanie:

2. Ustal i zapisz wymiary gumki do ścierania oraz paczki chusteczek higienicznych. Następnie oblicz długość, szerokość i wysokość tych przedmiotów w podziałkach 2:1 oraz 1:2.

a)



podziałka 1:1

długość

szerokość

wysokość

podziałka 2:1

długość

szerokość

wysokość

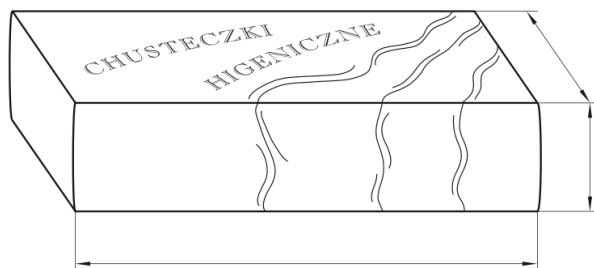
podziałka 1:2

długość

szerokość

wysokość

b) Zapisz swoje wymiary na liniach wymiarowych i uzupełnij opis.



podziałka 1:1

długość

szerokość

wysokość

podziałka 2:1

długość

szerokość

wysokość

podziałka 1:2

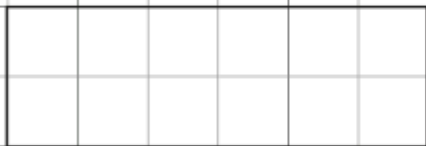
długość

szerokość

wysokość

3. Narysuj figurę i bryłę w podanych podziałkach (jeżeli przerysowujesz to ćwiczenie to przyjmij, że wielkość kratki poniżej to kratka w zeszyte, jeżeli drukowałeś to wielkość jak na wydruku).

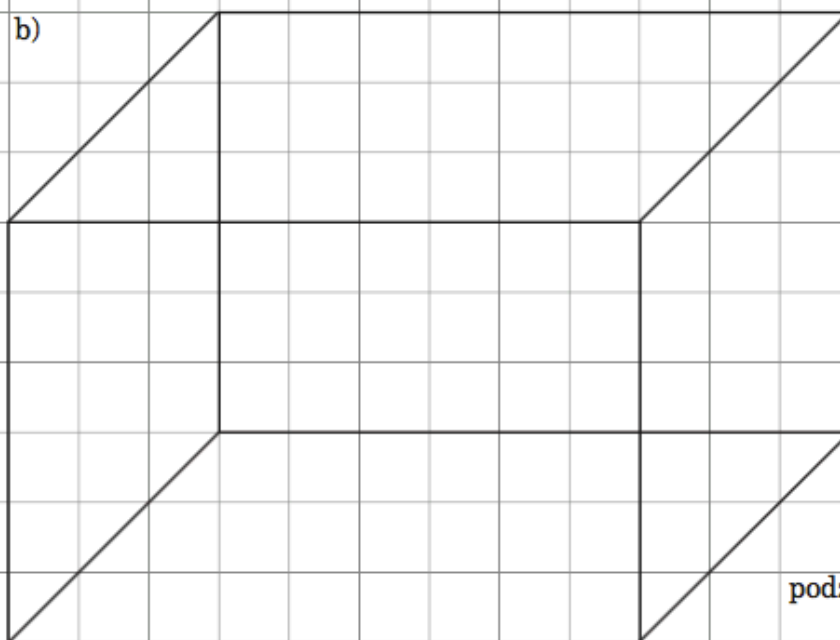
a)



podziałka 2:1

podziałka 1:2

b)



podziałka 1:3